



GUJARAT GAURAV

ક્ષમતા આકલન કસોટી : ગણિત

સૂચિત પ્રશ્ન સંગ્રહ : ધોરણ - ૧

૧. રોહન પાસે સફરજન, દાડમ અને કેરી એમ ત્રણ ફળ છે. જો ક્વાવીના કમ પ્રમાણે ત્રણે ફળ ગોઠવે તો નીચે દર્શાવેલ કયા કમ પ્રમાણે ફળ ગોઠવાય ?



2. 38 પછી તુરત આવતી સંખ્યા કઈ છે ?

અ) 37 બ) 39 ક) 28 ડ) 48

3. તમારા પાસે બે લખોટીઓ છે. તમારો ભાઈ તમને ત્રણ લખોટીઓ આપે અને તમારો મિત્ર તમને બે લખોટીઓ આપે તો તમારા પાસે કુલ કેટલી લખોટીઓ થાય ?

અ) બ) ક) ડ)

4. તમારી ઉંમર 6 વર્ષ છે તમારો ભાઈ તમારાથી 5 વર્ષ મોટો છે તો તેની ઉંમર કેટલી થાય ?

અ) 13 બ) 9 ક) 10 ડ) 11

5. નીચે આપેલ સરવાળાઓમાં કયો સરવાળો ખોટો છે ?

અ) $11 + 3 = 14$ બ) $6 + 7 = 13$ ક) $6 + 7 = 12$ ડ) $4 + 7 = 11$

6. રમેશે બપોરે 3 વાગ્યાથી વાંચવાનું શરૂ કર્યું. જો તેણે બે કલાક વાંચ્યું હોય તો કેટલા વાગ્યા સુધી વાંચ્યું હશે ?



7. નીચે દર્શાવેલ સંખ્યાઓમાં કઈ સંખ્યાઓ ખોટી રીતે દર્શાવેલી છે ?

અ) 39, 40, 41 બ) 58, 59, 60 ક) 79, 70, 81 ડ) 47, 48, 49

8. 28, 20, 27, 22 અને 25 ને ક્રમમાં લખીએ તો સૌથી વચ્ચે કઈ સંખ્યા આવે ?

અ) 25 બ) 22 ક) 28 ડ) 27

9. માધવીએ ત્રણ પેન્સિલના ત્રણ ત્રણ ટુકડાઓ કર્યા તો તેની પાસે કુલ કેટલા ટુકડાઓ હોય ?

અ) 3 બ) 6 ક) 9 ડ) 12

10. નીચે દર્શાવેલ સંખ્યાઓમાં સૌથી મોટી સંખ્યા કઈ છે ?

79, 88, 29, 39, 69, 75, 98, 18, 34

અ) 79 બ) 98 ક) 88 ડ) 75



11. નીચે દર્શાવેલી સંખ્યાઓ ચડતા ક્રમમાં ગોઠવતા સૌથી છેલ્લે કઈ સંખ્યા આવે ?

27, 22, 34, 39, 12, 24, 35, 19

અ) 39 બ) 19 ક) 27 ડ) 35

12. એક બસમાં 3 વિદ્યાર્થીઓ અને દરેકના મમ્મી પપ્પા બેઠા હોય તો કુલ કેટલા લોકો બસની અંદર હોય ?

અ) 3 બ) 6 ક) 9 ડ) 12

13. નીચેના આપેલી સંખ્યાઓમાં કઈ સંખ્યા નાની છે ?

અ) 16 થી 3 વધારે બ) 14 થી 4 વધારે ક) 12 થી 4 વધારે ડ) 11 થી 6 વધારે

14. ક્રમમાં ખૂટતી સંખ્યા કઈ આવે

અ) 10 બ) 16



ક) 22 ડ) 14

15. નીચેનામાંથી કયું વિધાન ખોટું છે ?

અ) $2 \times 3 = 3 \times 2$

બ) $5 \times 4 = 12 + 7$

ક) $3 \times 7 = 21$

ડ) $4 + 3 + 2 = 3 \times 3$

16. દસકના સ્થાનમાં 3 હોય અને એકમના સ્થાનમાં નવ હોઈ તો કઈ સંખ્યા બને ?

અ) $35 + 4$

બ) $36 + 4$

ક) $34 + 4$

ડ) $32 + 6$

17. જો તમે 4 ને 3 વખત ઉમેરો તો કઈ સંખ્યા મળે ?

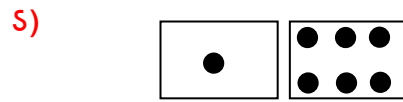
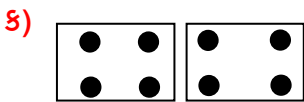
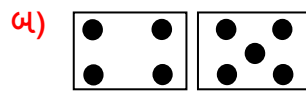
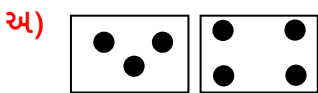
અ) 9

બ) 12

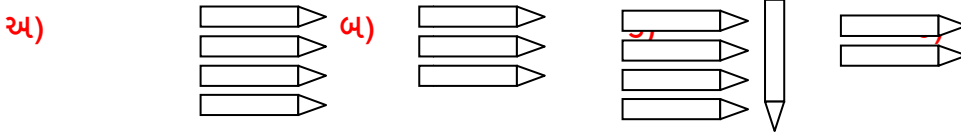
ક) 16

ડ) 7

18. નીચે દર્શાવેલ પાસાઓની જોડમાં કયા પાસાઓ સૌથી વધારે સંખ્યા દર્શાવે છે ?



19. એક પેન્સિલના પાંચ રૂપિયા હોય તો પંદર રૂપિયાની કેટલી પેન્સિલ આવે ?



20. નીચે વસ્તુઓમાં સૌથી વધારે વજનદાર વસ્તુ કઈ છે ?

